

1

準備

対称な図形

答え



名前

組 番

1 右の図を見て、()にあてはまる数や言葉を書きましょう。

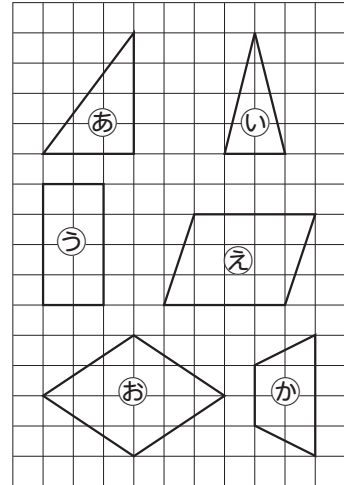
①か)の四角形は、向かい合った()組の

辺が平行なので、()です。

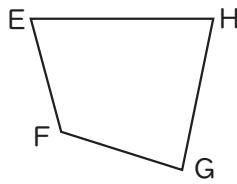
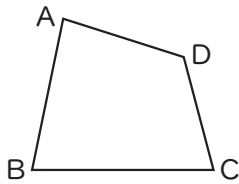
②二等辺三角形は2つの()の長さが

等しい三角形で、右の図では()です。

③右の図で平行四辺形は()です。



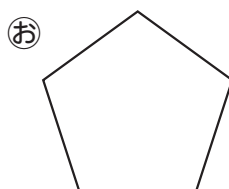

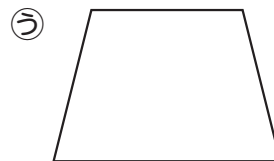
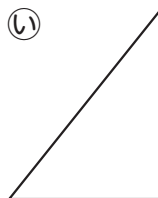
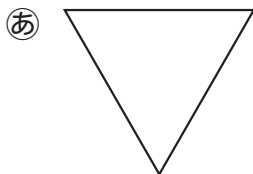
2 下の2つの四角形は合同です。問題に答えましょう。



①頂点Aちやうてんに対応する頂点ちやうてんはどれですか。()

②辺CDに対応する辺はどれですか。()

3 下の図形の中で、正多角形はどれですか。全て選びましょう。



()