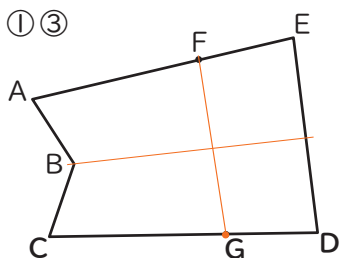


1 プラス・ワンの答え

1

形の特ちょうを調べよう

ア ①③

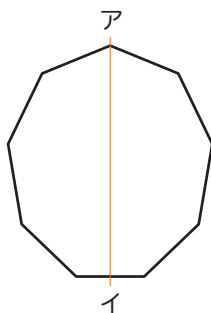


②頂点D、辺CB ちようてん

④8cm

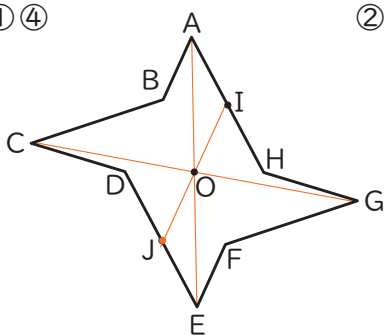
⑤70°

イ ㊦



角の大きさの和…1260°

ウ ①④



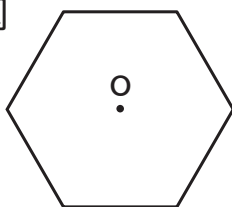
②頂点G、辺HA ちようてん

③直線AO

⑤5cm

⑥35°

エ ㊦



名前…正六角形

オ ぐうすう
偶数