

# 7

準備

## 合同な図形

答え



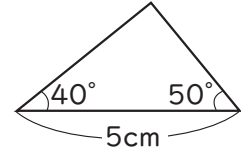
名前

組 番

1 次の三角形をかきましょう。

① 辺の長さが、6cm、4cm、4cmの二等辺三角形

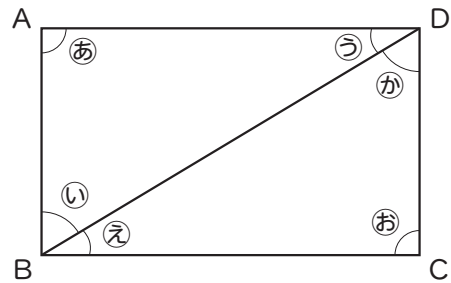
② 右のような三角形



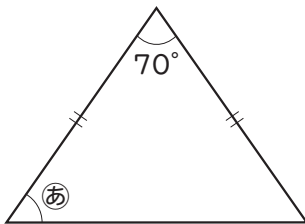
2 右の図は、長方形に対角線を1本ひいたものです。

㉔の角と大きさが同じ角はどれですか。

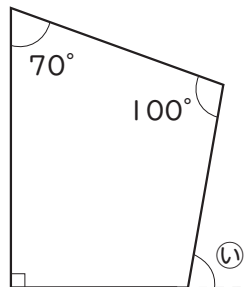
( )



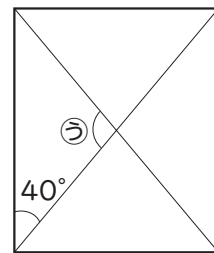
3 次の図で、㉗~㉙の角度はそれぞれ何度ですか。



( )



( )



(長方形)

( )