



名前

組

番

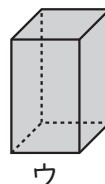
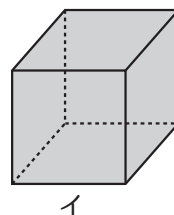
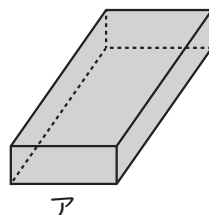
① 右の図について、にあてはまる言葉を書きましょう。

① アのような

だけでかこ囲まれた形や、ウの

ような と

でかこ囲まれた形を直方体といいます。

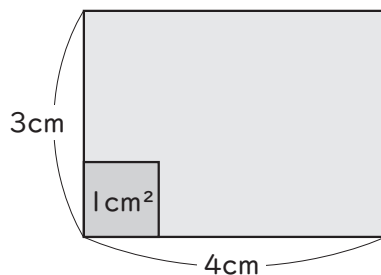


② イのような だけでかこ囲まれた形を、立方体といいます。

② 右の長方形の面積を求めます。にあてはまる数や式を書きましょう。

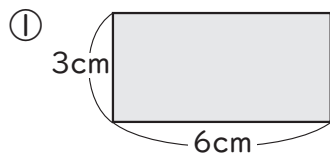
① 長方形の面積が、 1cm^2 の正方形のいくつ分になるかを求めましょう。

式 =



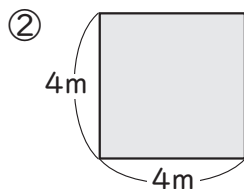
② 右の長方形は、 1cm^2 の正方形 個分なので、面積は cm^2 になります。

③ 次の形の面積を求めましょう。



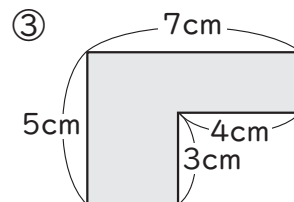
(式)

答え



(式)

答え



(式)

答え