



名前

組 番

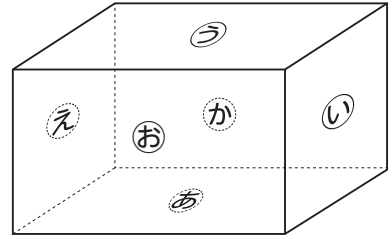
1 右の直方体を見て答えましょう。

①面㉑はどんな形ですか。

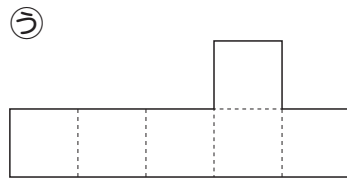
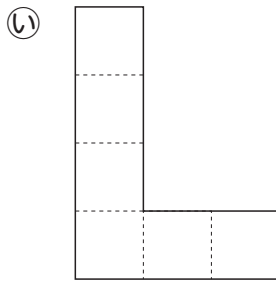
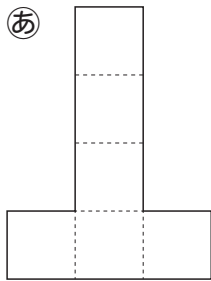
( )

②面㉒に垂直な面を全部答えましょう。

( )

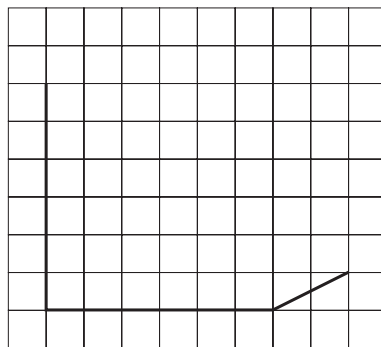
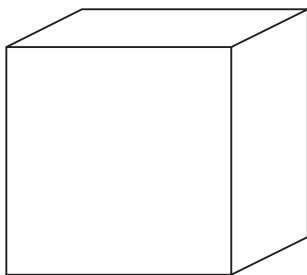


2 下の図の中で、立方体の展開図になっているのはどれですか。



( )

3 下の直方体の見取図を完成させましょう。



4 半径4cmの円の円周の長さを求めましょう。

(式)

答え