

## 6

準備

## 垂直、平行と四角形

答え



名前

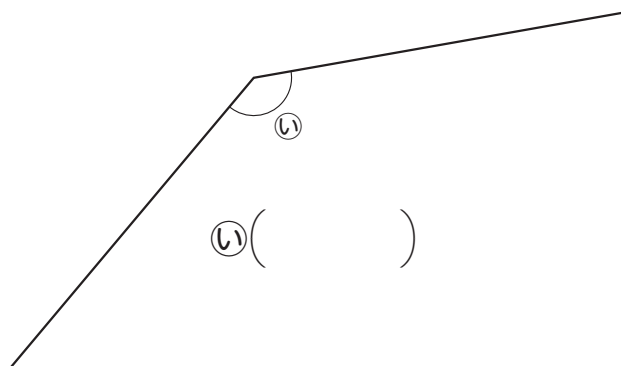
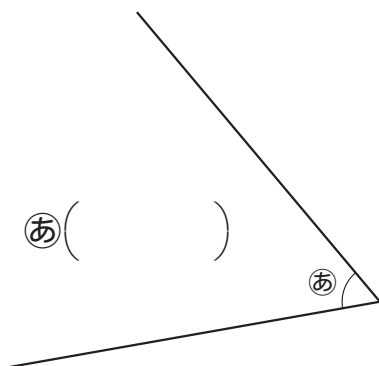
組 番

1 □にあてはまる数を書きましょう。

① 1直角 = °

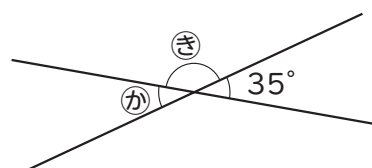
② 2直角 = °

2 あといの角度は何度ですか。



3 かときを、<sup>ぶん</sup><sup>ど</sup><sup>き</sup>分度器を使わ<sup>もと</sup>ないで求めましょう。

か( )      き( )



4 直角をはさむ<sup>へん</sup>2辺が2cmと5cmの直角三角形を、ものさし、分度器、じょうぎを使ってかきましょう。