

+1 プラス・ワンの答え

3

角の大きさを調べよう

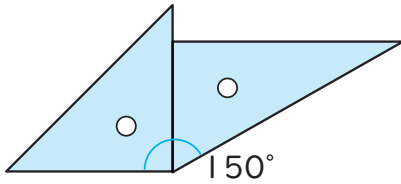
タ ㊦ 45°

㊧ 130°

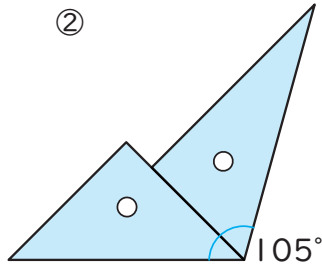
㊨ 165°

チ (例)

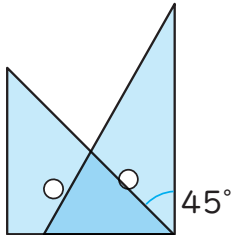
①



②



③



ツ ㊦ 190°

㊧ 260°

㊨ 335°

テ しょうりやく

ト しょうりやく