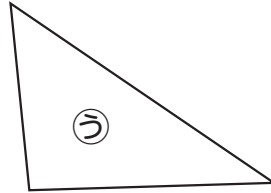
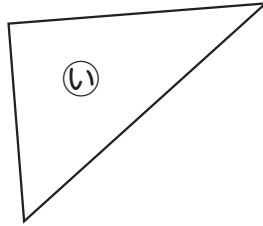
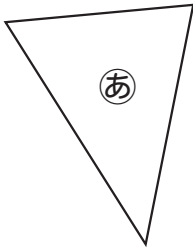




名前

組 番

1 直角三角形をえらびましょう。



()

2 ()にあてはまる^{ことば}言葉を書きましょう。

①三角形や四角形のまわりの直線を()、

かどの点を()といいます。

②かどがみんな直角で、^{へん}辺の長さがみんな同じ四角形を、

()といいます。

3 下のあ、い、うの直線はどれが一番長いでしょうか。

コンパスを^{つか}使って^{しら}べてみましょう。

あ _____ ()

い _____

う _____