
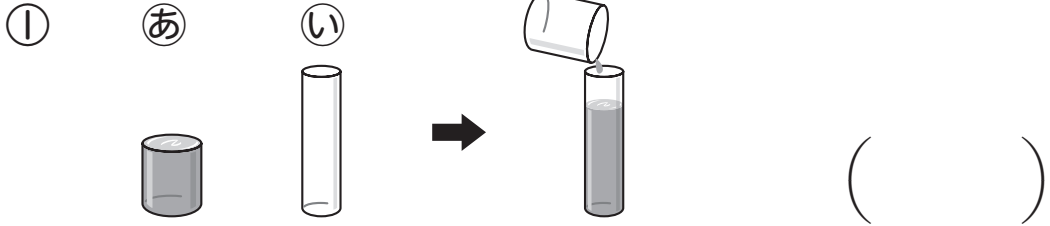
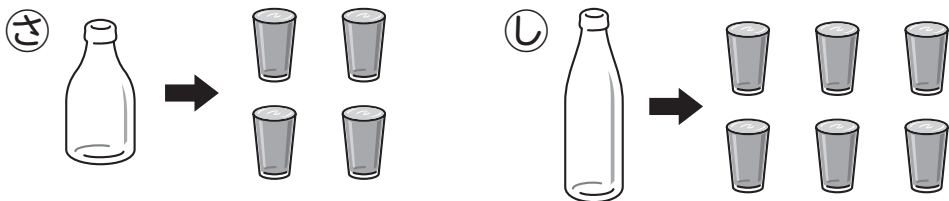




① どちらが ^{おお}多く 入りますか。



② 2つのびんにのこっていた水のかさを、
コップでしらべました。



①③には、コップ ^{なん}何 ^{ぶん}ばい分 のこっていましたか。
()

②どちらがコップ ^{なん}何 ^{ぶん}ばい分 多く のこって
いましたか。()