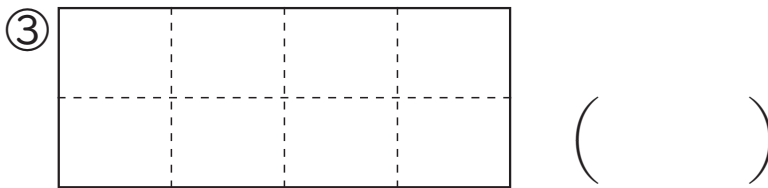
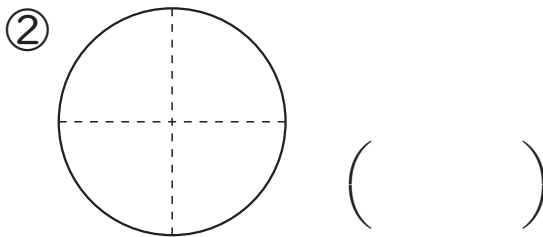
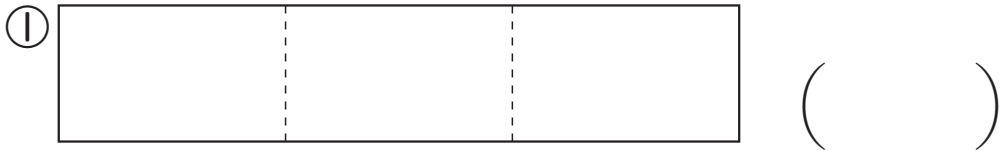




なまえ

くみ ばん

- ① もとの大きさを ^{おな}同じ大きさに ^わいくつに分けていますか。



- ② おり紙を ^{がみ}同じ大きさに 2つに分けます。
 どのような ^{かた}分け方が ありますか。

下の おり紙に ^{せん}線を かきましょう。

